


دفتري ۵

آشتی باریاضیات



آشتی با ریاضیات

گردآورنده: پرویز شهریاری

صفحه آرا: حسن نیک بخت

تیراژ ۴۰۰۰ نسخه - چاپخانه رامین

آذرماه ۱۳۶۳ چاپ اول

نشانی پستی: تهران - صندوق پستی ۵۴۱ - ۲۴

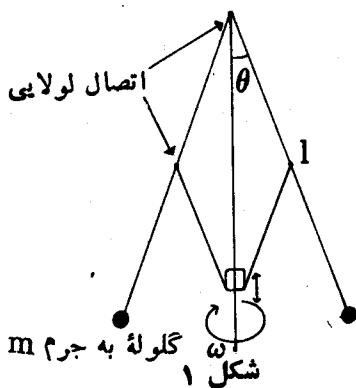
فهرست دفتر پنجم

۵۱۳	پرویز شهریاری	ریاضیات در خدمت انسان
۵۴۰	ابوالقاسم قربانی	ریاضی دانان ایران (ابوالجود)
۵۴۵	محمد باقری	ریاضیات مقصودت یا فیزیک؟
۵۴۹	پرویز شهریاری	مسأله‌هایی برای تشکیل و حل معادله‌ها
		زنان و ریاضیات (۶)
۵۵۸	ترجمه شهین نعمت‌زاده	مری فرفاس سومرویل
۵۷۶	پرویز شهریاری	نه مسأله برای سرگرمی
۵۷۸	—	عددهای کامل
۵۸۷	چاپر عناصری	نقش اعداد در پندار عوام
۵۹۵	—	رمز و راز عددها
		واژه‌های مربوط به زمان‌های
۶۰۰	دکتر عبدالکریم قریب	زمین‌شناسی
۶۰۵	—	دوازده وجهی منتظم در کره
۶۰۶	—	نور زنده، یک پدیده شگفت‌انگیز
۶۲۲	—	حل مسأله‌ها

ریاضیات مقصراست یا فیزیک؟

محمد باقری

« طرح يك پارادوکس »



وسيله‌ای مطابق شکل مقابل ، در دستگاه‌های مکانیکی و بخصوص در ماشین‌های بخار برای تنظیم سرعت دورانی به کار می‌رود و به «تنظیم کننده وات» موسوم است . همان‌طور که از شکل برمی‌آید، هر چه سرعت دوران بیشتر شود ، بازوهای جانبی بیشتر باز می‌شوند ؛ یعنی مقدار زاویه θ افزایش می‌یابد و حرکتی به سوی

بالاروی محور دوران ایجاد می‌گردد . در عمل ، از این ارتباط بین سرعت دورانی و جابجایی در طول محور ، مثلا برای کنترل میزان بخار ورودی استفاده می‌شود ، تا دستگاه در نقطه کار ثابتی به تعادل برسد و سرعت از محدوده مورد نظر خارج نشود .

برای آنکه رابطه بین ω (سرعت زاویه‌ای) و θ را به دست آوریم ، حالت ایده آل زیر را در نظر می‌گیریم . در این حالت ، طول بازو ؛ l و جرم گلوله (که به صورت نقطه مادی فرض می‌شود) m است . همچنین از جرم میله بازو صرف نظر می‌شود (یا عملاً آن‌را در جرم گلوله ادغام می‌کنند) . با توجه به نیروهای وارد بر گلوله (شکل ۲) در حالت تعادل ، می‌توان به ترتیب

زیر، رابطه بین ω و θ را به دست

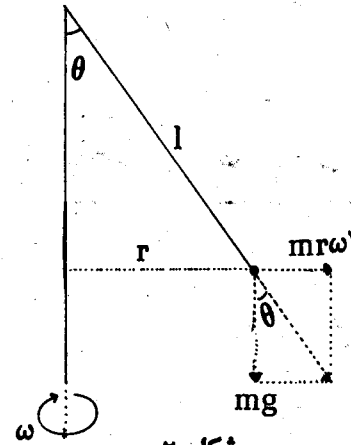
آورد:

$$\operatorname{tg}\theta = \frac{m r \omega^2}{m g} = \frac{l \sin\theta \omega^2}{g}$$

$$g = \text{شتاب گرانی} \cong 9.8 \frac{m}{\text{sec}^2} \cong$$

$$980 \frac{m}{\text{sec}^2}$$

$$\cos\theta = \frac{g}{l\omega^2}$$



شکل ۲

این فرمول در مبحث پاندول مخروطی فیزیک سال چهارم رشته ریاضی فیزیک (صفحات ۱۳۲ و ۱۳۳ چاپ ۱۳۵۸) نیز برای مسئله مشابهی استخراج شده است. همچنین اگر ابتدا در حالت کلی، حرکت آونگ کروی را در نظر بگیریم و از روی توابع لاگرانژ دستگاه، معادلات دیفرانسیل حرکت گلوله را به دست آوریم، با گذاشتن شرایط مسئله مورد بحث در معادلات مذکور، همین رابطه بین θ و ω به دست خواهد آمد (مثلاً نگاه کنید به کتاب مکانیک کیت. ر. سیمون Mechanics; Keith R. Symon از دانشگاه ویسکانسین؛ چاپ ۱۹۸۱؛ به زبان انگلیسی؛ صفحات ۳۸۱ تا ۳۸۳).

اکنون به حل مسئله زیر می پردازیم:

اگر در شکل (۱) داشته باشیم $l = 10 \text{ cm}$ (دور در دقیقه $n = 80$ ،

مقدار θ را به دست آورید.

ظاهراً باید بتوانیم مسئله را به سادگی از روی رابطه یافته شده بین

θ و ω به دست آوریم، اما ...

$$\omega = \frac{2\pi n}{60} = 2\pi \times \frac{80}{60} \cong 8.37 \text{ رادیان بر ثانیه}$$

$$\cos\theta = \frac{g}{l\omega^2} = \frac{980}{10 \times (8.37)^2} \cong 1.42 \quad (!!)$$

بدیهی است که مقدار $\cos\theta$ به هیچ وجه نباید از یک بیشتر شود و در هر صورت، این مقدار یافته شده برای $\cos\theta$ عملاً قادر به تعیین مقدار θ نیست. اگر محاسبات عددی و مراحل به دست آوردن فرمول $\cos\theta$ را هم دوباره کنترل کنید همه چیز درست است. پس اشکال کار در کجاست؟ برای آنکه بدانیم چه ω هایی منجر به این وضع می شوند، با توجه به محدودیت اندازه $\cos\theta$ روابط زیر را می نویسیم:

$$0 \leq \theta \leq \frac{\pi}{2}$$

$$0 \leq \cos\theta \leq 1$$

مثبت بودن مقدار به دست آمده از فرمول برای $\cos\theta$ ، بدیهی است بنابراین کاری به آن نداریم؛

$$\cos\theta \leq 1$$

$$\frac{g}{l\omega^2} \leq 1$$

$$\omega \geq \sqrt{\frac{g}{l}}$$

اگر شرط به دست آمده را برای مسئله عددی فوق الذکر بنویسیم:

$$\sqrt{\frac{g}{l}} = \sqrt{\frac{980}{10}} = \sqrt{98} \cong 10$$

$$\omega \geq 10$$

$$n = \frac{\omega}{2\pi} \times 60 \cong 100 \text{ دور در دقیقه}$$

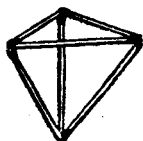
ظاهراً چنان که از حل مسئله برمی آید برای سرعت های کمتر از

۱۰۰ دور در دقیقه $\cos\theta$ بیشتر از یک می شود. به سادگی می توان تحقیق کرد

که برای آنکه θ از $\frac{\pi}{4}$ تا صفر تغییر کند، ω باید از بنهایت تا

تغییر کند. با آن که در عمل هیچ محدودیتی در مورد مقدار ω وجود ندارد چرا فرمول به ازای مقدارهای کمتر از $\sqrt{\frac{g}{l}}$ جواب نمی‌دهد. اگر در تمام ω های بین صفر و $\sqrt{\frac{g}{l}}$ مقدار θ صفر باقی‌ماند چرا این جواب از معادله به دست نمی‌آید؟ ریاضیات مقصر است یا فیزیک؟

تعداد هرم‌ها



مسئله ۰۱. باشش چوب کبریت می‌توان یک چهار وجهی (هرم مثلث القاعده) درست کرد. چند چهار وجهی مختلف

می‌توانید با این شش چوب کبریت بسازید؟ مثلاً، با جا به جا کردن جای دو چوب کبریت، یا با تغییر جهت یک چوب کبریت، می‌توان چهار وجهی دیگری به دست آورد. ولی دقت کنید! یک چهار وجهی را، وقتی روی وجه‌های مختلف خود قرار گرفته است، دو چهار وجهی مختلف به حساب نیاورید!

مسئله ۰۲. اگر مسئله اول به نظر تان ساده می‌آید، می‌توانید تمرین خود را با درست کردن چهار وجهی به کمک کاغذ و رنگ کردن وجه‌های آن ادامه دهید. در گسترده‌ها، چهار رنگ به کار رفته است: آبی، زرد، سبز و قرمز. هر وجه بساید تنها با یک رنگ باشد. چند چهار-



وجهی با رنگ‌های مختلف می‌توانیم به دست آوریم؟ مثل قبل، این شرط را حفظ می‌کنیم که اگر چهار وجهی را روی وجه دیگری از آن قرار دهیم و با آن را به جهت دیگری بچرخانیم، یک نوع چهار وجهی به حساب می‌آید.

پاسخ در صفحه ۶۲۴